

円周角 04-1

名前 () 得点 (/12)

以下の太い円弧に対応する円周角を、例にならって塗りつぶして示せ。

(例)

(1)

(2)

(3)

(4)

以下の角●に対応する円周を、例にならって太線で示せ。

(例)

(1)

(2)

(3)

(4)

円周角 04-1

名前 () 得点 (/12)

以下の太い円弧に対応する円周角を、例にならって塗りつぶして示せ。

(例)

(1)

(2)

(3)

(4)

以下の角●に対応する円周を、例にならって太線で示せ。

(例)

(1)

(2)

(3)

(4)

円周角 04-2

名前 () 得点 (/12)

以下の太い円弧に対応する円周角を、例にならって塗りつぶして示せ。

(例)

(1)

(2)

(3)

(4)

以下の角●に対応する円周を、例にならって太線で示せ。

(例)

(1)

(2)

(3)

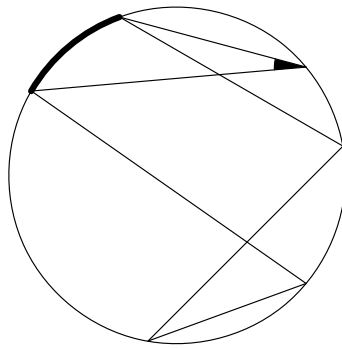
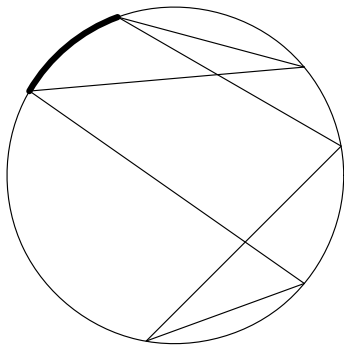
(4)

円周角 04-2

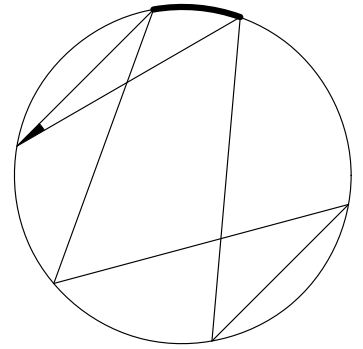
名前 () 得点 (/12)

以下の太い円弧に対応する円周角を、例にならって塗りつぶして示せ。

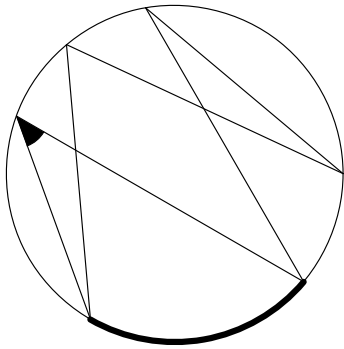
(例)



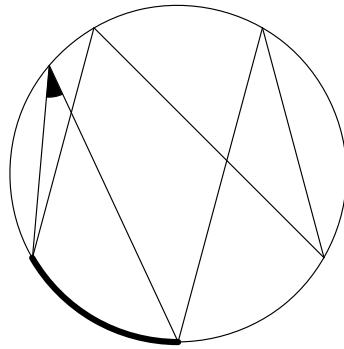
(1)



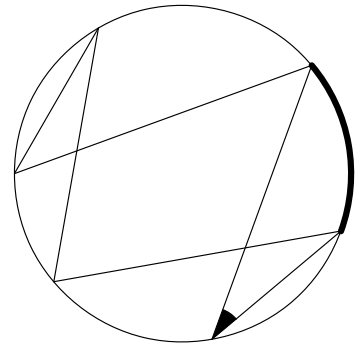
(2)



(3)

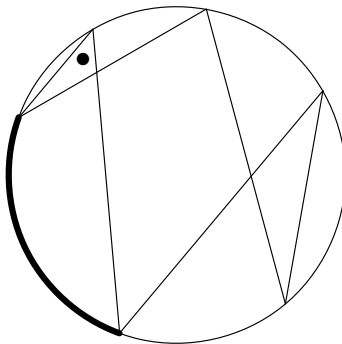
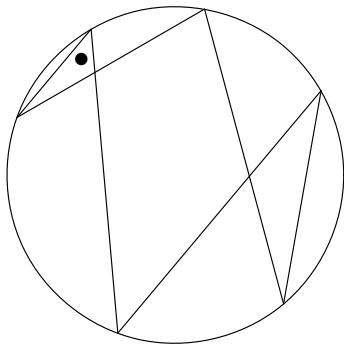


(4)

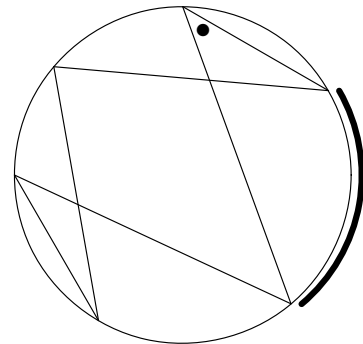


以下の角●に対応する円周を、例にならって太線で示せ。

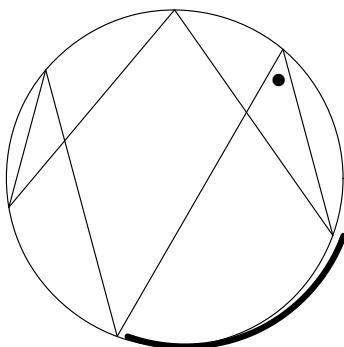
(例)



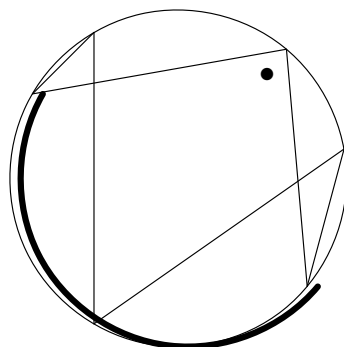
(1)



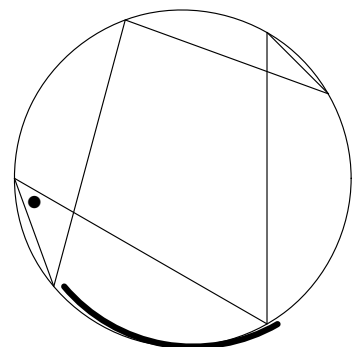
(2)



(3)



(4)

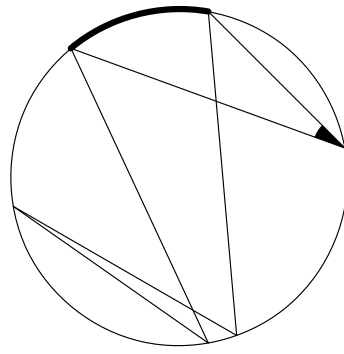
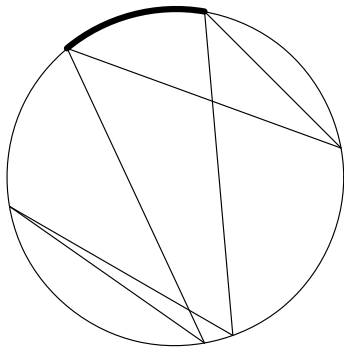


円周角 04-3

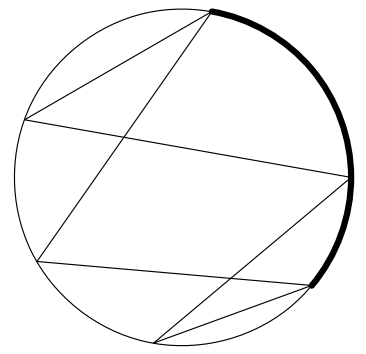
名前 () 得点 (/12)

以下の太い円弧に対応する円周角を、例にならって塗りつぶして示せ。

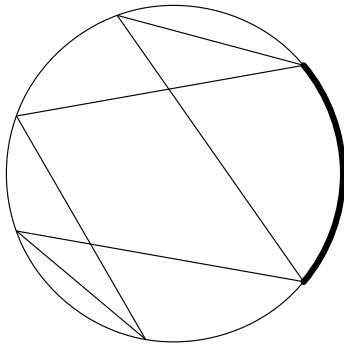
(例)



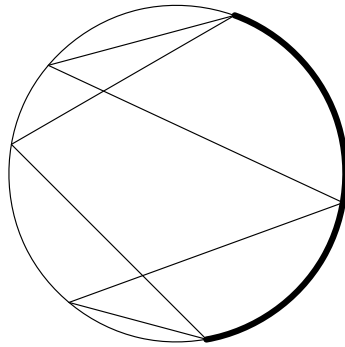
(1)



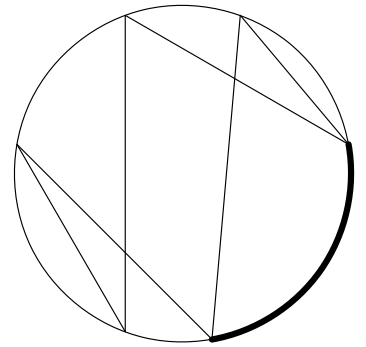
(2)



(3)

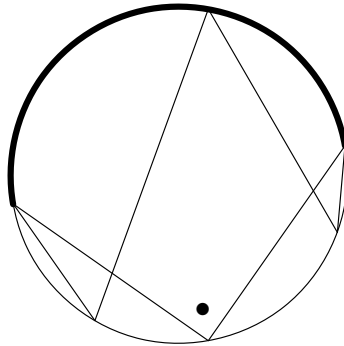
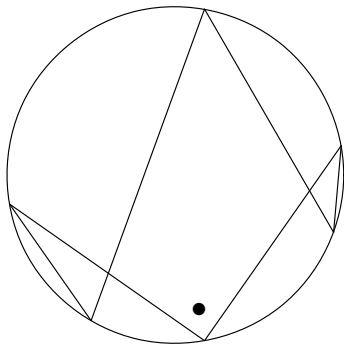


(4)

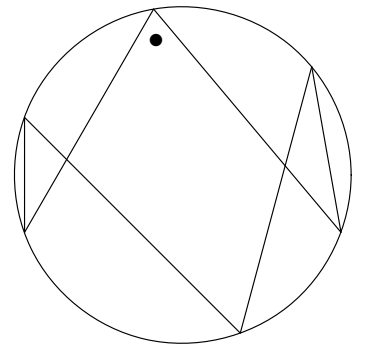


以下の角●に対応する円周を、例にならって太線で示せ。

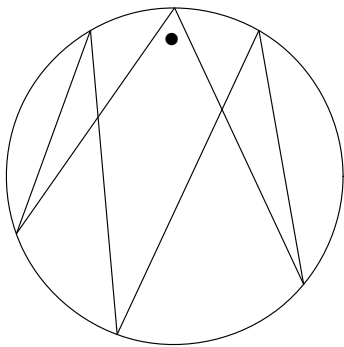
(例)



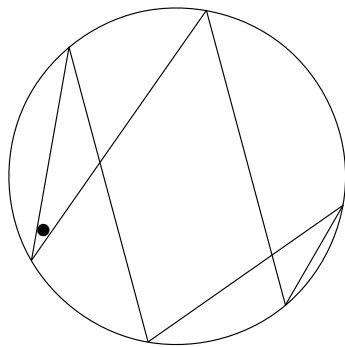
(1)



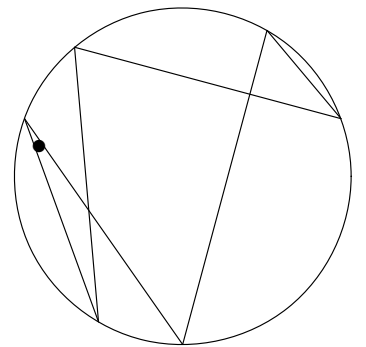
(2)



(3)



(4)

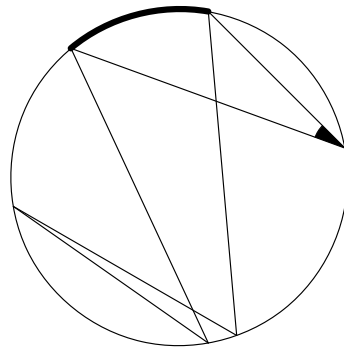
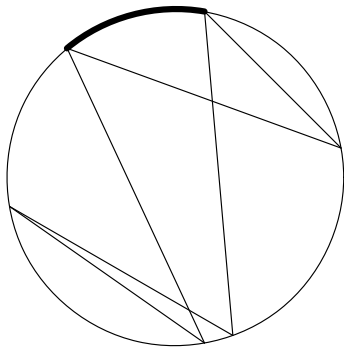


円周角 04-3

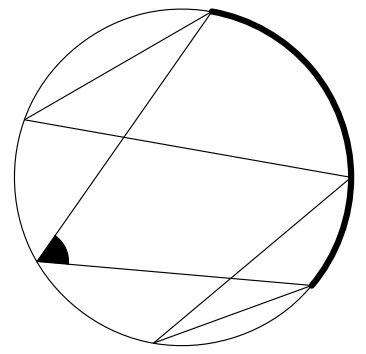
名前 () 得点 (/12)

以下の太い円弧に対応する円周角を、例にならって塗りつぶして示せ。

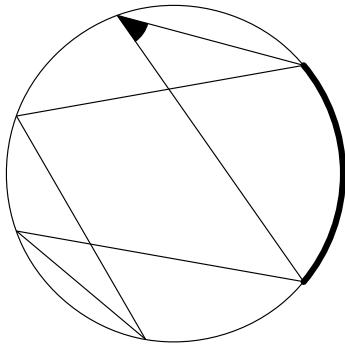
(例)



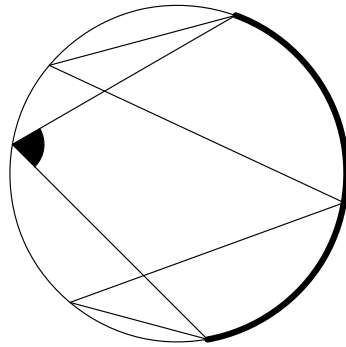
(1)



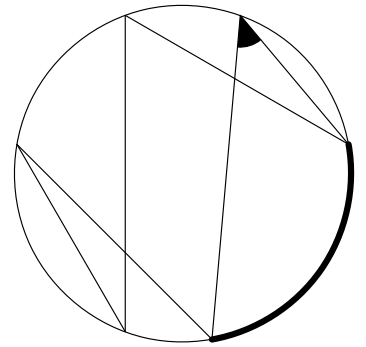
(2)



(3)

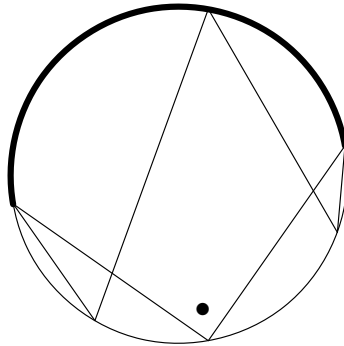
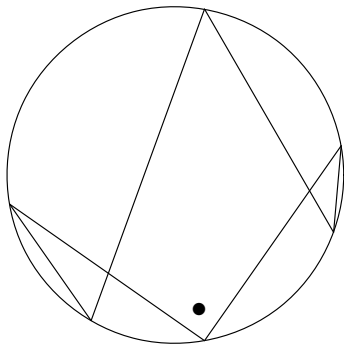


(4)

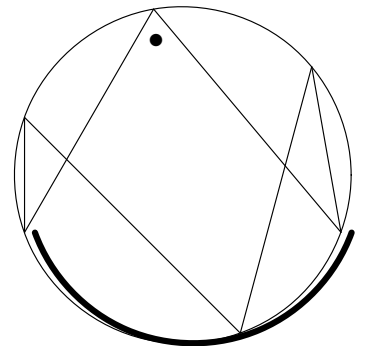


以下の角●に対応する円周を、例にならって太線で示せ。

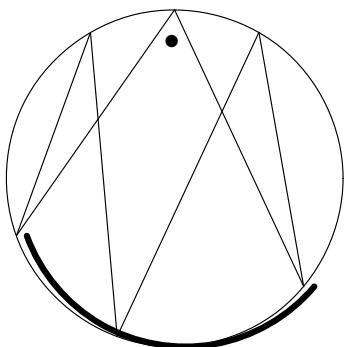
(例)



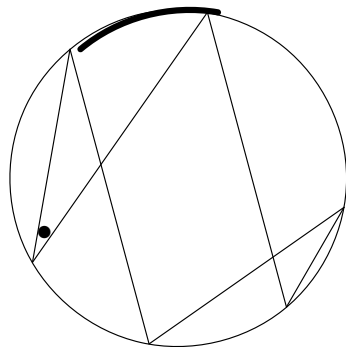
(1)



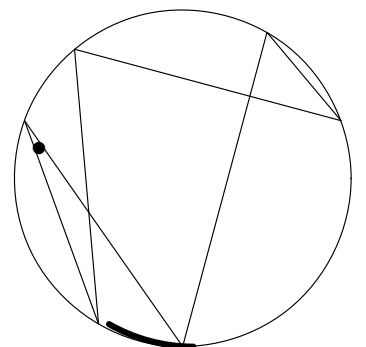
(2)



(3)



(4)



円周角 04-4

名前 () 得点 (/12)

以下の太い円弧に対応する円周角を、例にならって塗りつぶして示せ。

(例)

(1)

(2)

(3)

(4)

以下の角●に対応する円周を、例にならって太線で示せ。

(例)

(1)

(2)

(3)

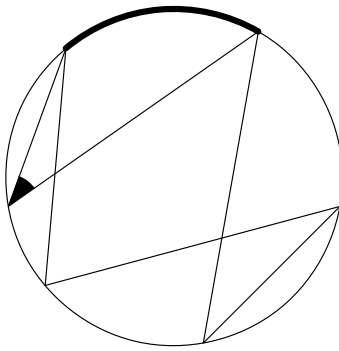
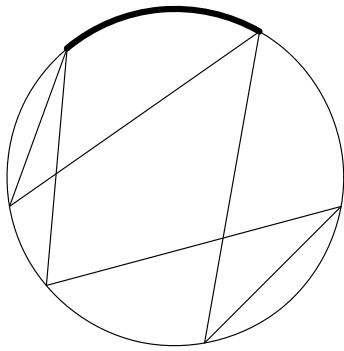
(4)

円周角 04-4

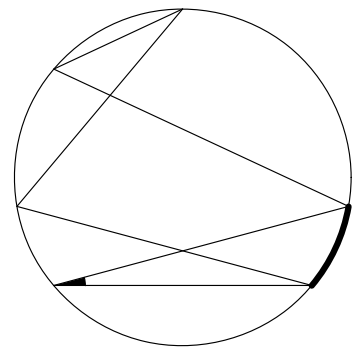
名前 () 得点 (/12)

以下の太い円弧に対応する円周角を、例にならって塗りつぶして示せ。

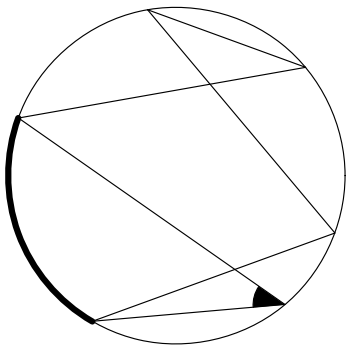
(例)



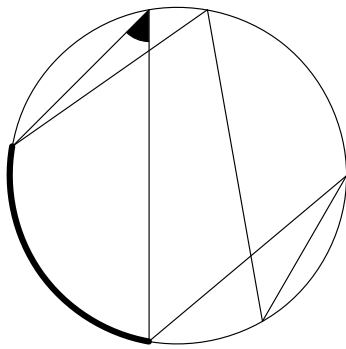
(1)



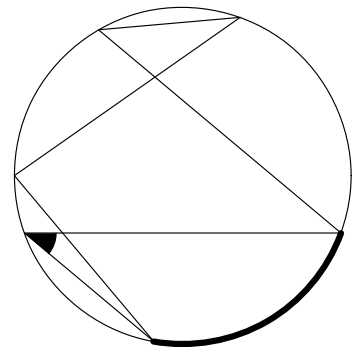
(2)



(3)

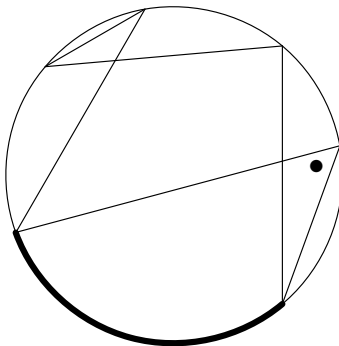
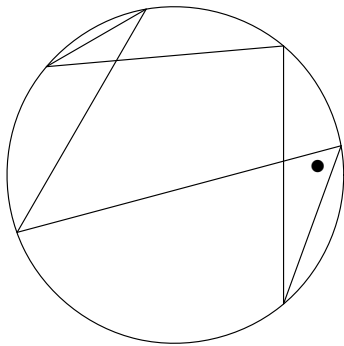


(4)

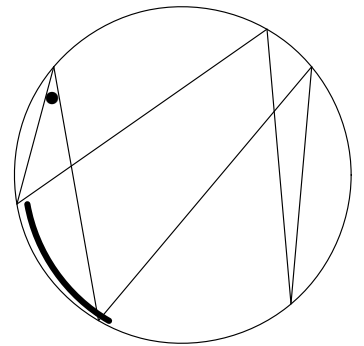


以下の角●に対応する円周を、例にならって太線で示せ。

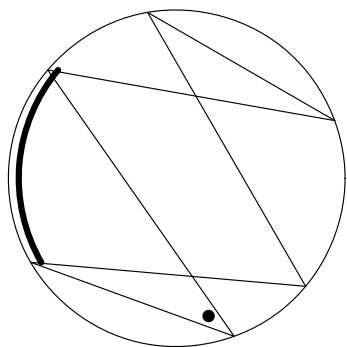
(例)



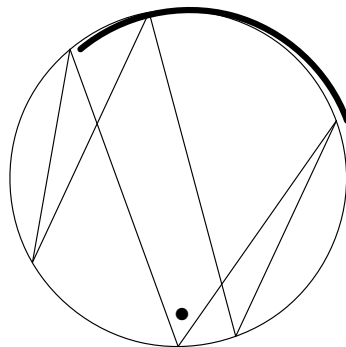
(1)



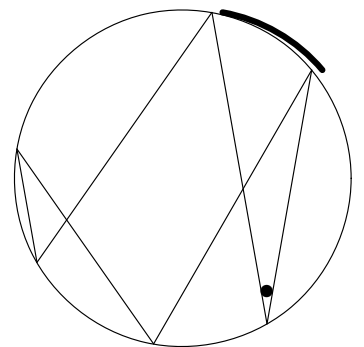
(2)



(3)



(4)



円周角 04-5

名前 () 得点 (/12)

以下の太い円弧に対応する円周角を、例にならって塗りつぶして示せ。

(例)

(1)

(2)

(3)

(4)

以下の角●に対応する円周を、例にならって太線で示せ。

(例)

(1)

(2)

(3)

(4)

円周角 04-5

名前 () 得点 (/12)

以下の太い円弧に対応する円周角を、例にならって塗りつぶして示せ。

(例)

(1)

(2)

(3)

(4)

以下の角●に対応する円周を、例にならって太線で示せ。

(例)

(1)

(2)

(3)

(4)